

Table des matières

Nombres premiers	4
Trouver les facteurs	7
Identifier les nombres premiers	8
Vrai ou faux sur les nombres premiers	9
Multiples	10
Trouver les nombres carrés	13
Nombres carrés et démarches	15
Équations avec nombres carrés	19
Illustrer les nombres carrés	22
Vrai ou faux sur les nombres carrés	23
Illustrer les facteurs premiers	24
Trouver les facteurs premiers	27
Trouver le nombre représenté	30
Vrai ou faux sur les facteurs premiers	33
Corrigé	34
Certificat	35

Les nombres premiers

Trouve les facteurs des nombres suivants et indique si ce sont des nombres premiers.



100

67

29

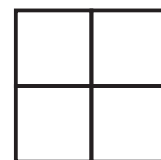

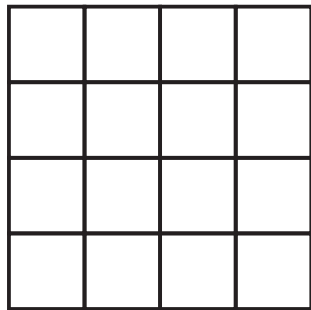
36

33

53

Les nombres carrés

Trouve les nombres carrés associés aux carrés suivants. Écris l'équation qui t'a permis de trouver la réponse.



Les facteurs premiers

Voici des facteurs premiers; trouve le nombre qu'ils représentent.



$2 \times 2 \times 2 \times 2$

$3 \times 3 \times 5 \times 7$

$3 \times 5 \times 7 \times 11$

$2 \times 2 \times 3 \times 3 \times 5$

$5 \times 5 \times 5 \times 13$

$2 \times 3 \times 5 \times 7$