

Table des matières

Nombres entiers et droite numérique	4
Nombres entiers manquants	5
Ordre croissant	8
Ordre décroissant	9
Additions de nombres entiers	10
Additions et droite numérique	14
Soustractions de nombres entiers	18
Soustractions et droite numérique	22
Additions et soustractions	26
Réponse positive et négative	30
Comparaison	31
Corrigé	34
Certificat	36

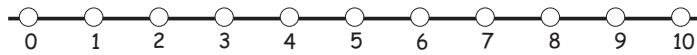
nom _____

date _____

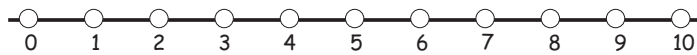
Les additions



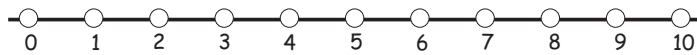
Résous les additions suivantes en te servant des droites numériques.



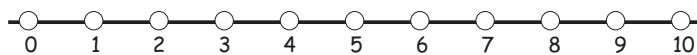
$9 + -4 =$



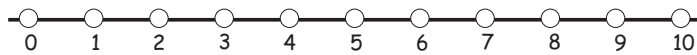
$5 + -3 =$



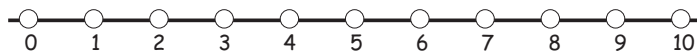
$7 + -2 =$



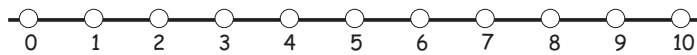
$8 + -7 =$



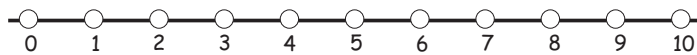
$6 + -6 =$



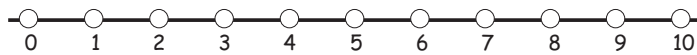
$2 + -1 =$



$5 + -2 =$



$4 + 0 =$



$7 + -3 =$

Les comparaisons



Écris les symboles plus petit que (<), plus grand que (>) ou égal (=) dans les carrés entre les équations.

$2 + 2 \quad \square \quad 2 + -2$

$12 + -1 \quad \square \quad 3 - -4$

$9 + -3 \quad \square \quad 3 - -2$

$20 + -8 \quad \square \quad 13 + 0$

$1 + -4 \quad \square \quad 3 + -8$

$15 + -4 \quad \square \quad 9 - -8$

$9 - -8 \quad \square \quad 9 + 8$

$7 + 7 \quad \square \quad 7 - -7$

$7 + -7 \quad \square \quad 1 + 1$

$9 + 8 \quad \square \quad 9 + -8$

$5 - -3 \quad \square \quad 15 + -10$

$22 + -7 \quad \square \quad 7 + -22$

$-2 + 9 \quad \square \quad 6 + 1$

$0 + -6 \quad \square \quad -14 + -8$

$4 + -6 \quad \square \quad 5 + -5$

$16 + -6 \quad \square \quad 6 - -4$

$-6 + 11 \quad \square \quad -8 + 12$

$6 - -3 \quad \square \quad 8 - -4$