

Table des matières


Trouver des fractions équivalentes	4
Trouver la fraction	7
Illustrer la fraction	10
Trouver la fraction illustrée	13
Réduire les fractions	14
Représenter une fraction réduite	18
Dénominateur commun	21
Additionner des fractions	24
Soustraire des fractions	29
Corrigé	34
Certificat	35

nom _____

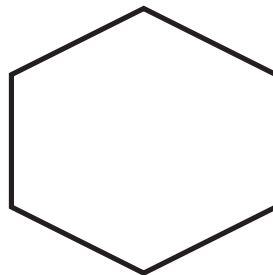
date _____

Les fractions


Réduis les fractions et représente-les dans les formes suivantes.



$$\frac{4}{16}$$




$$\frac{8}{12}$$




$$\frac{2}{4}$$



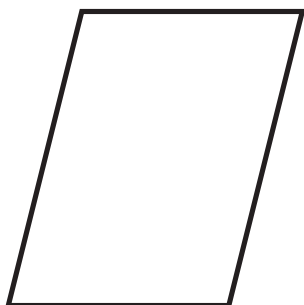
$$\frac{10}{50}$$




$$\frac{22}{33}$$



$$\frac{12}{27}$$



$$\frac{30}{36}$$



$$\frac{500}{1000}$$

Les soustractions

Soustrais les fractions suivantes. Utilise l'espace disponible pour inscrire ta démarche.



$$\frac{9}{10} - \frac{1}{3} =$$

$$\frac{11}{13} - \frac{2}{26} =$$

$$\frac{8}{9} - \frac{7}{8} =$$

$$\frac{15}{18} - \frac{4}{6} =$$